



PRUEBA DE ACCESO A LA UNIVERSIDAD Y PRUEBA DE ADMISIÓN

ANDALUCÍA, CEUTA, MELILLA y CENTROS en MARRUECOS
CURSO 2024-2025

DIBUJO
TÉCNICO II

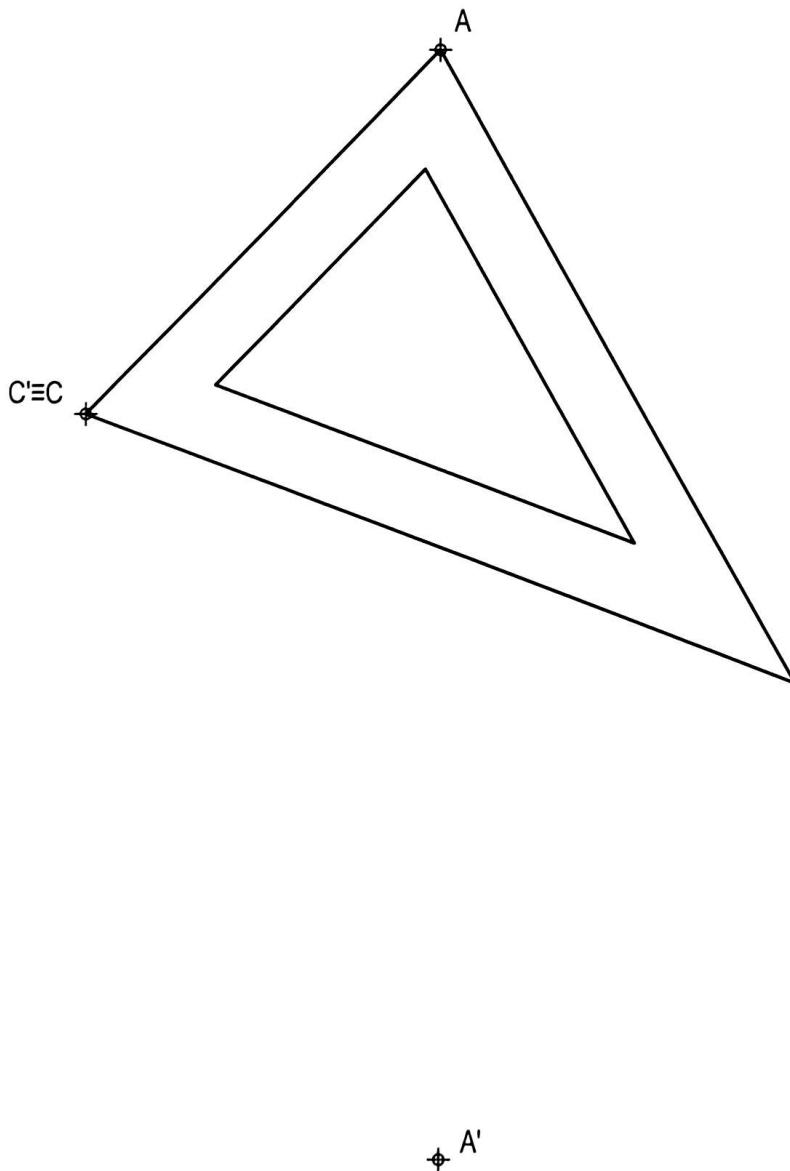
Instrucciones:

- a) Tiempo de duración de la prueba: 1 hora y 30 minutos.
- b) La presente prueba consta de cuatro ejercicios.
- c) Para mayor comodidad en la realización de la prueba, el alumnado quitará la grapa del examen.
- d) Para la realización de la prueba, el alumnado resolverá los cuatro ejercicios propuestos.
- e) Los ejercicios deben resolverse exclusivamente en las láminas facilitadas, realizando cada uno de ellos en su correspondiente hoja.
- f) Los ejercicios se calificarán de 0 a 2,5 puntos, sumando una puntuación máxima de 10 (4 x 2,5).
- g) El alumnado deberá dejar, siempre, constancia gráfica de las construcciones auxiliares que ha utilizado para la realización de los ejercicios.
- h) La ejecución del dibujo se hará únicamente con lápiz de grafito, pudiéndose usar distintos grosores y durezas de minas.
- i) Para la realización de la prueba, el alumnado podrá utilizar el siguiente material de dibujo:
 - Lápices de grafito o portaminas.
 - Afilaminas.
 - Goma de borrar.
 - Escuadra y cartabón.
 - Regla graduada o escalímetro.
 - Compás.
- j) Además de los útiles mencionados, se permitirá el uso de plantillas, transportador de ángulos, un tablero tamaño A-3 con su correspondiente paralelógrafo y se permitirá el uso de calculadoras que no sean programables, gráficas ni con capacidad para almacenar o transmitir datos.

EJERCICIO 1: TRANSFORMACIONES GEOMÉTRICAS

Dada la figura representada y la homología afín ortogonal definida por los pares de puntos homólogos $A-A'$ y $C \equiv C'$, se pide:

1. Determinar el eje de afinidad.
2. Representar la figura homóloga a la dada.



Puntuación:

Apartado 1 0,25 puntos

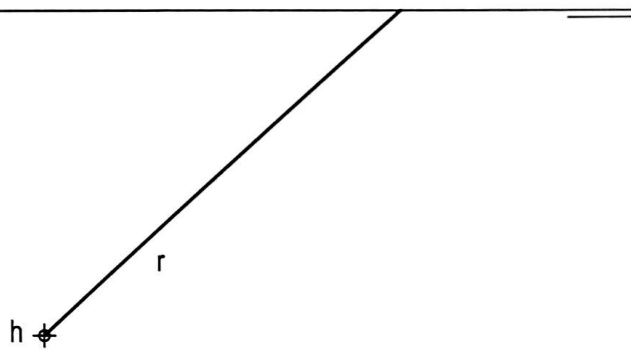
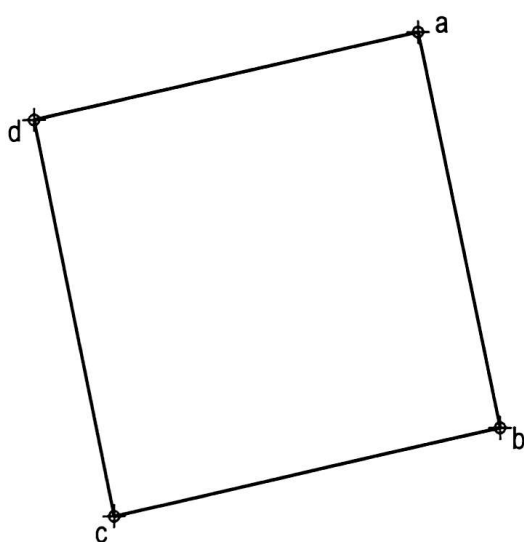
Apartado 2 2,25 puntos

Puntuación máxima 2,50 puntos

EJERCICIO 2: SISTEMA DIÉDRICO

Dadas las proyecciones horizontales del cuadrado ABCD, de la recta R y de su traza horizontal H, se pide:

1. Dibujar las proyecciones del octaedro regular ABCDEF situado en el primer diedro de proyección, sabiendo que su diagonal EF es perpendicular al plano horizontal de proyección y el punto E tiene cota cero.
2. Determinar la proyección vertical de R sabiendo que forma 30° con el plano horizontal de proyección.
3. Representar la recta S paralela a R y que pasa por el punto medio de la diagonal EF.



Puntuación:

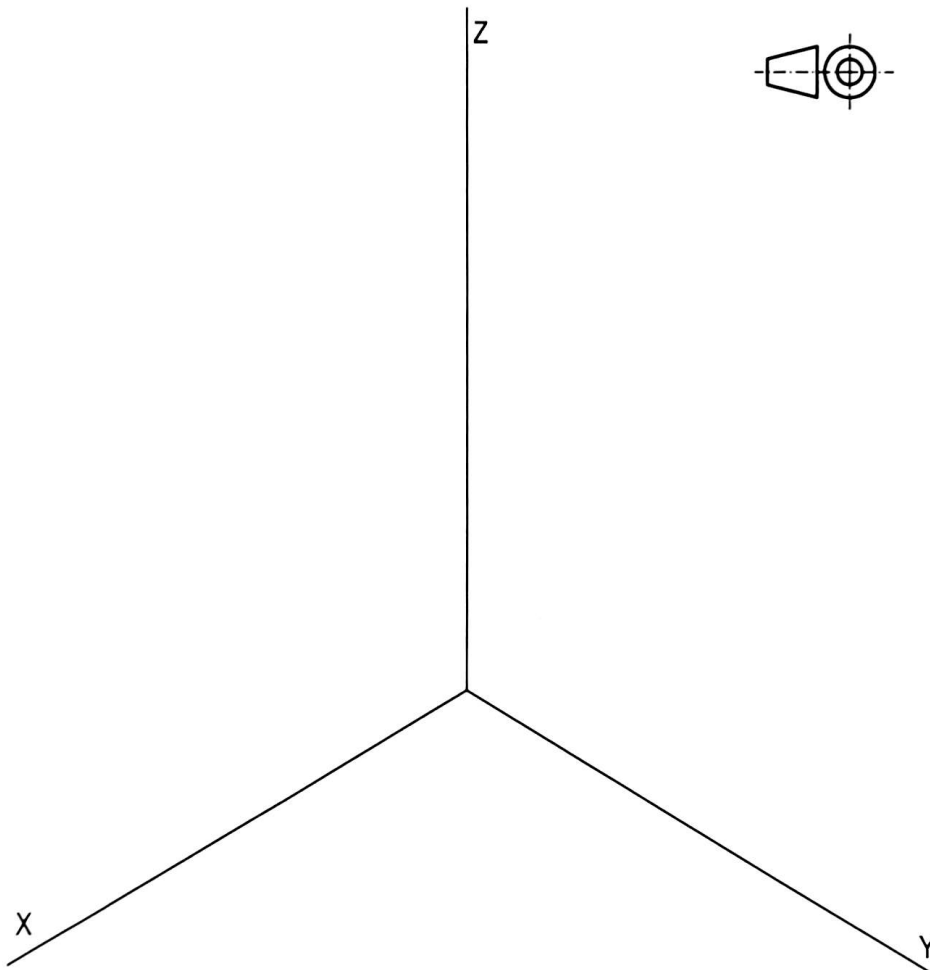
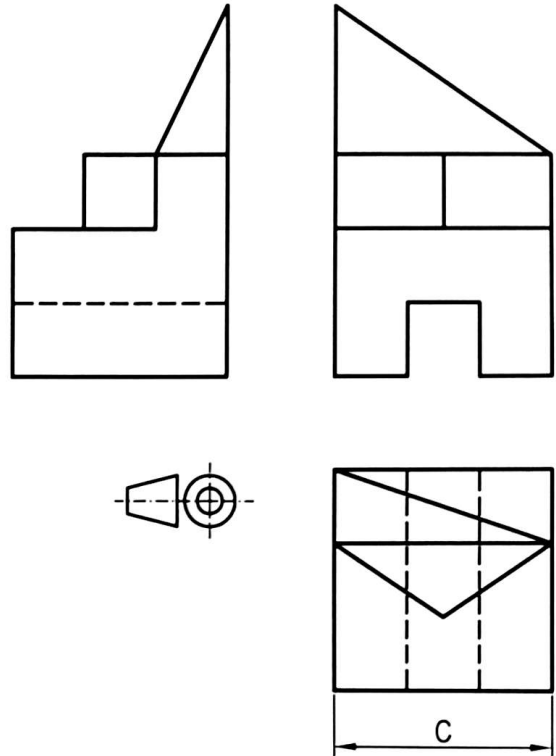
Apartado 1	1,50 puntos
Apartado 2	0,75 puntos
Apartado 3	0,25 puntos

Puntuación máxima 2,50 puntos

EJERCICIO 3: SISTEMA AXONOMÉTRICO

Dados alzado, planta y perfil de una pieza a escala 1:2, según el método de representación del primer diedro de proyección, se pide:

1. Representar su perspectiva isométrica a escala 1:1, según los ejes dados.
2. Indicar el valor de la cifra de cota marcada con la letra C: _____ mm.



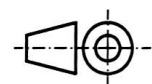
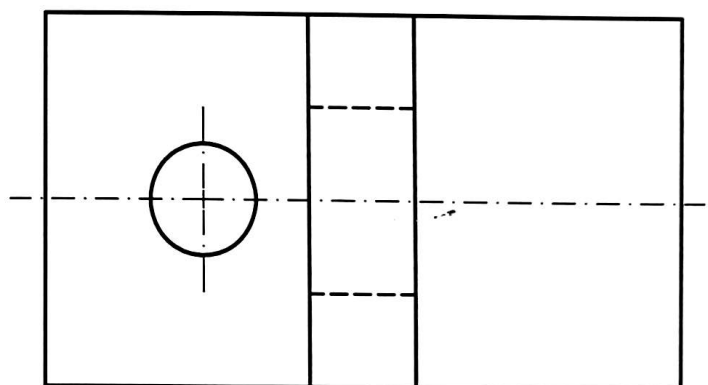
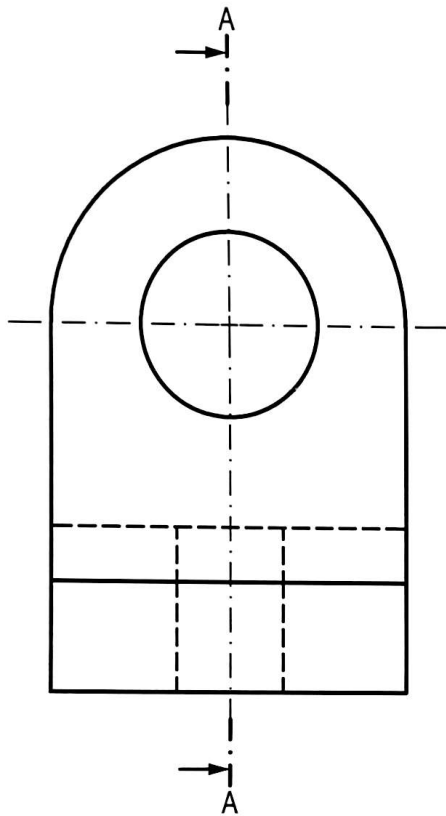
Puntuación:

Aplicación escala	0,25 puntos
Aplicación coeficiente	0,25 puntos
Perspectiva	1,75 puntos
Apartado 2	0,25 puntos
Puntuación máxima	2,50 puntos

• EJERCICIO 4: NORMALIZACIÓN

Dados planta y perfil de una pieza a escala 1:2, según el método de representación del primer diedro de proyección, se pide:

1. Dibujar el corte A-A a escala 1:2.
2. Acotar según normas.



Puntuación:

Apartado 1 1,25 puntos

Apartado 2 1,25 puntos

Puntuación máxima 2,50 puntos